

## 8

## 兩位數的加減法

端午節媽媽包粽子，包了好多  
肉粽和甜粽。



本節配合習作第 72 - 75 頁

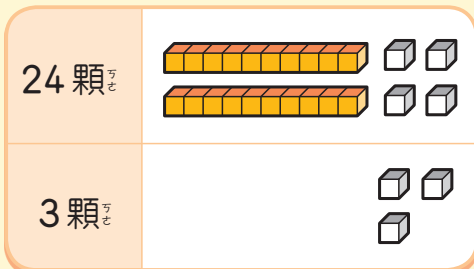
# 8-1 兩位數的加法

1 端午節，媽媽和皮一兒共包了幾顆粽子？ 配合附件 18



我包了 24 顆。

我包了 3 顆。



我先算有幾個 ，再算有幾條 。

4 個 和 3 個 合起來是 7 個 。

2 條 和 7 個 合起來和 27 個 一樣多。

用算式記作：

$$24 + 3 = 27$$

一兒共包了  顆粽子。

練習 拿出積木做做看。

配合附件 18

1  $22 + 5 =$

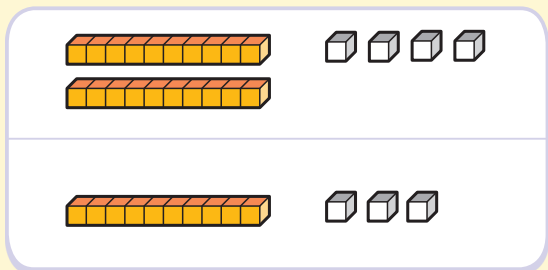
2  $4 + 35 =$






2 買  24元<sup>元</sup> 和  13元<sup>元</sup>，共<sup>共</sup>要<sup>要</sup>幾<sup>幾</sup>元<sup>元</sup>？

配合附件18、26




妮<sup>妮</sup>的<sup>的</sup>做<sup>做</sup>法<sup>法</sup>：



 我<sup>我</sup>先<sup>先</sup>算<sup>算</sup>有<sup>有</sup>幾<sup>幾</sup>個<sup>個</sup> ，  
再<sup>再</sup>算<sup>算</sup>有<sup>有</sup>幾<sup>幾</sup>條<sup>條</sup> 。

丹<sup>丹</sup>的<sup>的</sup>做<sup>做</sup>法<sup>法</sup>：



 我<sup>我</sup>先<sup>先</sup>算<sup>算</sup>要<sup>要</sup>付<sup>付</sup>幾<sup>幾</sup>個<sup>個</sup> ，  
再<sup>再</sup>算<sup>算</sup>要<sup>要</sup>付<sup>付</sup>幾<sup>幾</sup>個<sup>個</sup> 。

用<sup>用</sup>算<sup>算</sup>式<sup>式</sup>記<sup>記</sup>作<sup>作</sup>：

$$24 + 13 = \square$$

共<sup>共</sup>要<sup>要</sup>  元<sup>元</sup>








**練習** 書<sup>書</sup>櫃<sup>櫃</sup>裡<sup>裡</sup>原<sup>原</sup>有<sup>有</sup> 31 本<sup>本</sup>漫<sup>漫</sup>畫<sup>畫</sup>書<sup>書</sup>，再<sup>再</sup>放<sup>放</sup>進<sup>進</sup> 21 本<sup>本</sup>故<sup>故</sup>事<sup>事</sup>書<sup>書</sup>，現<sup>現</sup>在<sup>在</sup>有<sup>有</sup>幾<sup>幾</sup>本<sup>本</sup>書<sup>書</sup>？

算<sup>算</sup>式<sup>式</sup>： +  =

有<sup>有</sup>  本<sup>本</sup>書<sup>書</sup>



3 養雞場裡有 14 隻母雞和 7 隻公雞，  
養雞場裡全部有幾隻雞？ 配合附件 18









母雞	 	<p>10 個  合起來可以換 1 條 。</p> <p>合起來是 2 條  和 1 個 。</p>
公雞		

用算式記作：

$$14 + 7 = \square$$

有  隻雞

4 撲滿裡有 22 元，再存進 8 元後，  
撲滿裡有幾元？ 配合附件 26

原來	 	<p>2 個  和 8 個  合起來是 1 個 ，3 個  合起來是 30 元。</p>
再存進	 	

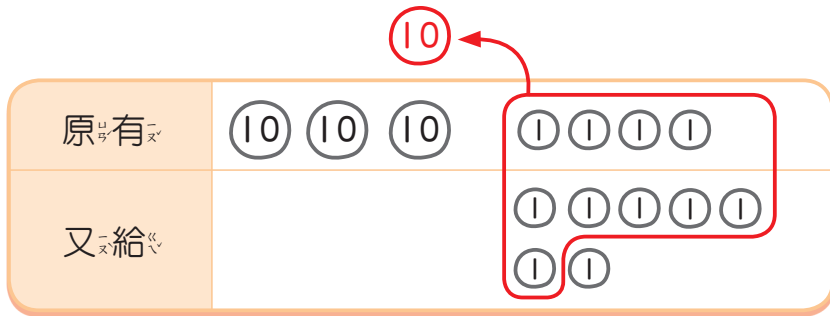
用算式記作：

$$22 + 8 = \square$$

有  元



5 弟弟原有 34 張貼紙，老師又給他 7 張，他現在有幾張貼紙？畫 10 和 1 做做看，再寫出算式。



用算式記作：

$$34 + 7 = \square$$

有  張貼紙

練習 有 19 個男生和 6 個女生參加音樂會，共有幾個人？

$$\square + \square = \square$$

共有  個人

**動動腦**

$36 + 4 = 40$ ，想一想， $36 + 14$  是多多少？



教師可引導學生操作或自行畫出 10、1 的表徵解題。

# 8-2 兩位數的減法

1 桌子<sup>上</sup>有<sup>27</sup>個<sup>橘</sup>子<sup>子</sup>，吃<sup>掉</sup>了<sup>4</sup>個<sup>橘</sup>子<sup>子</sup>，  
還<sup>剩</sup>下<sup>幾</sup>個<sup>橘</sup>子<sup>子</sup>？ 配合附件 18



7 個<sup>橘</sup>子<sup>子</sup>，拿<sup>走</sup> 4 個<sup>橘</sup>子<sup>子</sup>，  
剩<sup>下</sup>……



用<sup>算</sup>式<sup>記</sup>作<sup>：</sup>

$$27 - 4 = \boxed{23}$$

還<sup>剩</sup>下<sup>幾</sup>個<sup>橘</sup>子<sup>子</sup>

2 丹丹<sup>有</sup> 36 元<sup>錢</sup>，買<sup>遊</sup>戲<sup>卡</sup>花<sup>了</sup> 5 元<sup>錢</sup>，  
他<sup>還</sup>有<sup>幾</sup>元<sup>錢</sup>？ 配合附件 26



有<sup>3</sup>個<sup>10</sup>元<sup>錢</sup>和<sup>6</sup>個<sup>1</sup>元<sup>錢</sup>，  
拿<sup>走</sup> 5 個<sup>1</sup>元<sup>錢</sup>，剩<sup>下</sup>……



用<sup>算</sup>式<sup>記</sup>作<sup>：</sup>

$$\boxed{\phantom{00}} - \boxed{\phantom{00}} = \boxed{\phantom{00}}$$

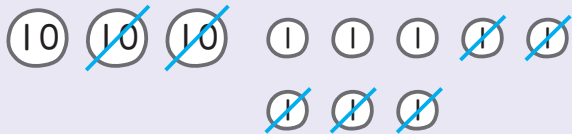
還<sup>有</sup>  元<sup>錢</sup>

**練習** 拿<sup>出</sup>積<sup>木</sup>做<sup>做</sup>看<sup>。</sup> 配合附件 18

1  $38 - 4 = \boxed{\phantom{00}}$

2  $29 - 7 = \boxed{\phantom{00}}$

3 遊覽車有 38 個座位，已經坐了 25 個人，還剩下幾個空位？



8 個 ① 減 5 個 ①，  
3 個 ⑩ 減 2 個 ⑩。



用算式記作：

$$38 - 25 = \square$$

還剩下  個空位

4 美美有 53 元，買牛奶用掉 13 元，剩下多少元？畫 ⑩ 和 ① 做做看。

用算式記作：

$$\square - \square = \square$$

剩下  元

練習 畫 ⑩ 和 ① 做做看。

1  $34 - 14 = \square$

2  $55 - 23 = \square$



5 爸爸做了 54 顆巧克力，媽媽做了 42 顆，爸爸比媽媽多做了幾顆巧克力？

爸爸  $\textcircled{10}$   $\textcircled{10}$   $\textcircled{10}$   $\textcircled{10}$   $\textcircled{10}$        $\textcircled{1}$   $\textcircled{1}$   $\textcircled{1}$   $\textcircled{1}$

從爸爸的 54 顆中，拿走和媽媽一樣多的 42 顆，還剩下 12 顆，就是比媽媽多的。



用算式記作：

$$54 - \square = \square$$

多做了  $\square$  顆巧克力。

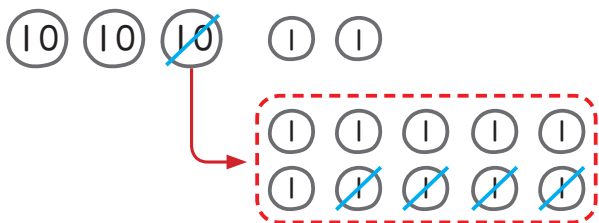
練習 皮皮生日時會上共有 34 個紅氣球，20 個藍氣球，紅氣球比藍氣球多幾個？

算式：

多  $\square$  個



6 美美有 32 元，去影印花了 4 元，美美還有多少元？



32 元裡面的 2 元不夠付，怎麼辦？



把 1 個 10 換成 10 個 1 再減。



用算式記作：

$$32 - 4 = \square$$

還有多少元

7 算算看， $25 - 9$  是多多少？

算式：

是

練習 畫 10 和 1 做做看。



1  $53 - 6 = \square$

2  $36 - 8 = \square$





# 8-3 加一加，減一減



1 媽媽買了  一個和  一杯，  
要付多少元？

算式：

要付  元

2 買  一個比  一個，  
要多付多少元？

算式：

多付  元







漢堡  
48元



柳橙汁  
23元



鮮奶  
34元



3 媽媽買了  一顆，付了一個 50 元錢幣，可以找回多少元？

算式：



找回  元

4 弟弟買了  2 盒，要付多少元？

算式：

要付  元

動動腦

爸爸帶了 50 元，想買一個  和 ，他的錢夠不夠買？說說看，你是怎麼知道的？



# 練習園地

## 1 走出計算迷宮吧！

計算出的答案是下一個算式的被加數或被減數。

你可以找到寶藏嗎？

